

السند 1: استقلت عائلة أحمد الحافلة إلى شاطئ البحر صحبة مجموعة من المصطافين فكان عدد الركاب 22 رجلا و 13 امرأة و 24 طفلا.

التعليمية 1-1: أحسب العدد الجملي لركاب الحافلة

.....
.....

مع 1

التعليمية 1-2: أرتب أعداد العملية السابقة ترتيبا تصاعديا

.....

مع 2

مع 2

السند 2: شاهد أحمد على الشاطئ شمسيات منصوبة فعدّ 7 شمسيات من القماش و 5 شمسيات من سعف النخيل

هذا تمثيل لعدد الشمسيات

$$5 + 7$$

X

XX XX XX

XX XX X

مع 1

التعليمية 1-2: أجزئ هذه المجموعة حسب الكتابة الجمعية:

السند 3: على الشاطئ جمع أحمد 14 صدفه و جمعت سلمى 25 صدفه

التعليمية 3: أحسب عدد الصدفات التي جمعها أحمد و سلمى

.....

* أرتب أعداد العملية السابقة ترتيبا تنازليا

.....

مع 1

* هذا تمثيل للصدفات التي جمعها أحمد. أصنفها حسب نوعها ثم أعر

اللافتة بكتابة جمعية.

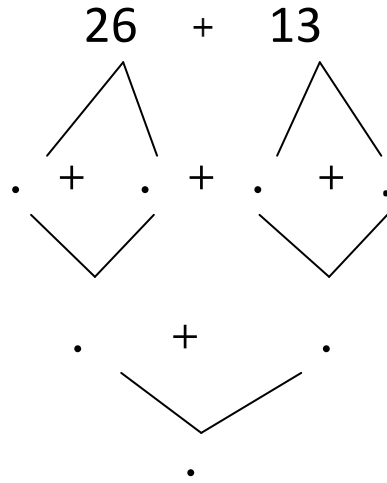
مع 2

مع 1

$$. + .$$

السند 4: قام والد أحمد بصيد السمك فأصطاد في المرة الأولى 26 سمكة و
في المرة الثانية 13 سمكة

التعليمية 4: أحسب العدد الجملي للأسماك مستعينا بالشجرة التالية:



مع 2

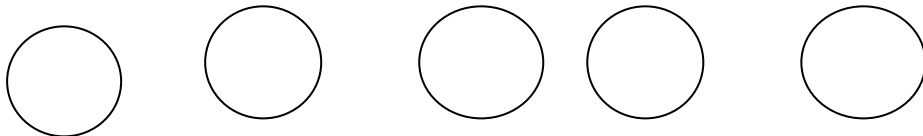
السند 5: اشترك الطفلان لشراء مشموم لوالدهما فدفق أحمد 45 مي و دفقت
سلمى 50 مي

التعليمية 5: أحيط مبلغ أحمد بخط مغلق:



مع 3

أمثل مبلغ سلمى بقطع نقدية لها نفس القيمة :



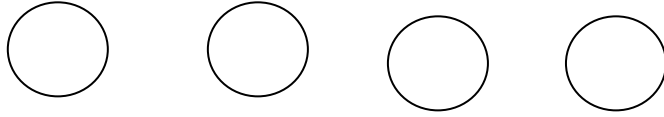
* أحسب ثمن المشموم

.....

مع 1

مع 2

* أمثل ثمن المشموم ب 4 قطع نقدية:



مع 3
□

السند 6: عاد أفراد العائلة إلى المنزل و مكثوا في غرفة الجلوس لنيل قسط من الراحة:



التعليمية 6: أكتب صواب أو خطأ أمام الجمل:

..... الزربية تحت الطاولة

..... الطفل على يسار أخته

..... الأب على يسار البنت

مع 4

□	□	□
---	---	---

السند 7 : اجتمع أفراد العائلة فاقترحت البنت لعبة الأعداد.

التعليمية: أساعدهم على إتمام السلسلة العددية التالية :

مع 5

□	□	□	□
---	---	---	---

.	.	.	40	36	.
---	---	---	----	----	---

التميز	معايير الحد الأدنى					المعايير المستويات
	مع 5	مع 4	مع 3	مع 2	مع 1	
0	0	0	0	0	انعدام التملك	
2	0.5	0.5	2	1	دون التملك الأدنى	
2	1	1	4	3	التملك الأدنى	
4	1.5	1.5	6	5	التملك الأقصى	

الاسم واللقب :

الحساب الذهني

_____ (1) $. - 40 - . - 20$

_____ (2) $. > 16 > . > 14$

_____ (3) $. + . = ع . + آ . = 45$

(4) أنجز العملية التالية:

$$\begin{array}{r} 5 \quad 6 \\ + \\ 2 \quad 8 \\ - \\ = . \quad . \end{array}$$

الاسم واللقب :

الحساب الذهني

_____ (1) $. - 40 - . - 20$

_____ (2) $. > 16 > . > 14$

_____ (3) $. + . = ع . + آ . = 45$

(4) أنجز العملية التالية:

$$\begin{array}{r} 5 \quad 6 \\ + \\ 2 \quad 8 \\ - \\ = . \quad . \end{array}$$