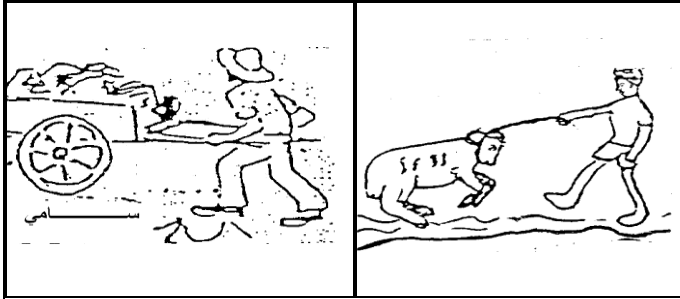


**السند 1:**

كَلَّف الأب أبناءه الثلاثة بتنظيف الحديقة  
- جمع سامي الحجارة في العربة.  
- اخرج أحمد سامي الكباش ونظَّف مكانه.  
- جمعت سلمى الأوساخ.

**التعليمة 1-1:** أكمل ب: جذب أو دفع

\* سلَّط سامي على العربة قوَّة .....

\* سلَّط أحمد على الكباش قوَّة .....

**التعليمة 1-2:** أربط بسهم الإجابة الصحيحة.

■ قوَّة مغناطيسيَّة

■ قوَّة عضليَّة

■ قوَّة كهربائيَّة

● القوَّة الَّتِي سلَّطها كلٌّ من الطِّفلين هي

مع 2

1 1

مع 2

1

**السند 2:**

وجدت سلمى بين الفضلات هذه الأشياء:

كجة من حديد	ورق	قلم	صابون	إسفنج	مسمار

**التعليمة 1-2:** أكمل ب "أشدَّ صلابة"، "أكثر ليناً" و"لها نفس الصلابة"

- الإسفنجة ..... من الخشب.

- كجة الحديد ..... المسمار.

- القلم ..... من الصَّابون

مع 1 ب

1 1 1

**السند 3:**

في المساء عاد الأب وشكر أطفاله على مجهوداتهم ووعدهم باصطحابهم غلى حديقة الحيوانات. في الحديقة رأى الأطفال  
حيوانات كثيرة: فيل-غزالة-بيغاء-سلحفاة-أرنب....

التعليمة 1-3: أربط بين الحيوان والعضو المستعمل في تناول الغذاء:

- الفيل ❖ الأسنان
- الغزالة ❖ المنقار
- البيغاء ❖ الخرطوم

مع1 ب

1 1 1


السند4:

استمتع الأطفال بوجودهم في الحديقة فاحذوا يجرون بين الشجار و يستنشقون الهواء النقي.

التعليمة 1-4: ألاحظ المشاهد وأضع العلامة (X) تحت كل حالة تعطل عملية التنفس.

مع1

1 1 1

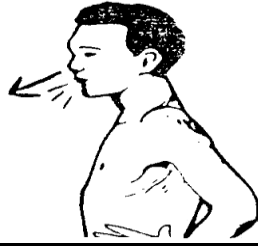





التعليمة 2-4: ألاحظ حركات الصدر في كل حالة وأصلح الخطأ إن وجد:

مع3

1 1 1



شهيق .....

شهيق .....

زفير .....

التعليمة 3-4 أصلح الخطأ:

الرياضة تعطل عملية التنفس و الإختناق يسهلها.

الرياضة ..... عملية التنفس و الإختناق .....

مع3

1 1

السند5:

جاء الأطفال فأشترى لهم أبوهم بسكويتا وعصيرا وأعجبوا بألوان البالونات المختلفة.

التعليمة 1-5: أكتب "صلبة"، "غازية" أو "سائلة":

يعتبر البسكويت مادة .....

يعتبر الهواء الذي في البالونات مادة .....

يعتبر العصير مادة .....

مع2 ب

1 1 1

### جدول إسناد الأعداد

المجموع	معايير التميز إصلاح الخطأ	معايير الحد الأدنى					المعايير مستويات التملك	
		مع2 ب توظيف المفهوم	مع2 أ تخيّر التمثلي الملائم للحل	مع1 ب ضبط العناصر المكونة للوضعية		مع1 أ تحديد مكونات الوضعية		
20	0	0	0	0		0	(-)	انعدام التملك
	2-1	1	1	3	2	1	(+)	دون التملك الأدنى
	4-3	2	2	4		2	(++)	التملك الأدنى
	5	3	3	6	5	3	(+++)	التملك الأقصى