

الإسم:.....	الإختبار الثلاثي الثاني في مادة الإيقاظ العلماء 2015/2014	المدرسة الابتدائية 17 نهج روسيا
اللقب:.....		المعلم: محمد البوبكري
القسم:.....		

السند 1:

بينما كنا نشاهد مباراة في كرة القدم، زلت قدم أحد اللاعبين فجرح و سال
الدم فبادروا بإسعافه. بعد إنتهاء الشوط فتحت موسوعة خاصة بجسم
الإنسان مصحوبة بعدة أسئلة.

التعليمة 1:

أضع علامة أمام السلوك الصائب في تنظيف الجرح:

❖ تنظيف الجرح من الخارج إلى الداخل

مع 1أ

❖ تطهير الجرح بمادّة مطهّرة

❖ تضميد الجرح

التعليمة 2:

أسطر الإجابة الصحيحة:

○ الكريات الحمراء تضمن التبادل الغازي

○ الأمصال مناعة طبيعيّة

○ يتخثر الدم عند التقائه بالهواء البارد

مع 1ب

التعليمة 3:

أحدّد 3 أعراض للتعنّف الجرثومي:

مع 2أ

.....

.....

.....

التعليمة 4:

- يتم التلقيح بطرق مختلفة:
- أربط بسهم بين المرض ونوع تلقيحه:
- التجرع * مرض الخناق
 - الحقن * مرض السل
 - الكشط * مرض الشلل


مع
2ب

السند 2:

خلال مطالعاتي عرفت أن للتغذية دور هام في جسم الإنسان حيث تمثل حاجزا أمام عدة أمراض:

التعليمة 5:

الأحظ الرسم ثم أجيب:



ماهي مشكلة الطفلين؟

مّم سيعانيان؟

بماذا تتصحهما؟

مع
1ج

1- أربط بسهم بين مكونات الدم و خصائصها:

- * مستديرة و مقعرة الوجهين
- * ليست منتظمة الشكل
- * الكريات الحمراء
- * الكريات البيضاء
- * بهـانـوـاة

مع
2ج

2- أصلح الخطأ إن وجد:

✓ يتكوّن الجلد من البشرة و البلازما

✓ التلقيح وسيلة علاجية

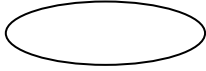
مع
3أ

✓ يتناول الرضيع أغذية الطاقة

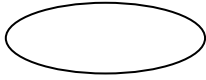
(3)- أضع علامة (x) أمام الإجابة الصحيحة:



■ أشعة الشمس تساعد على تزويد الجسم بالفيتامين (ج)



■ أغذية البناء و النمو غنية بالدهنيات



■ المريض بفقر الدم تنقصه مادة الحديد

مع
3ب

(4)- ألاحظ الجدول و أصلح الخطأ الوارد في كل مجموعة غذائية:

أغذية الطاقة	أغذية الوقاية	أغذية النمو و البناء
- الخبز - اللحم - الياغورت - العسل	- الحليب - البرتقال - الجبن - الكسكسي	- البيض - السمك - الزبدة - الخضر

مع
3ج

جدول إسناد الأعداد

مع 3			مع 2			مع 1			
ج	ب	أ	ج	ب	أ	ج	ب	أ	
0	0	0	0	0	0	0	0	0	(---)
0.5	0.5	0.5	0.5	0.5	1.5	1.5	0.5	0.5	(--+)
1.5	1	1	1	1	3	3	1	1	(-++)
2	1.5	1.5	1.5	1.5	4.5	4.5	1.5	1.5	(+++)